

2 Valor posicional

Objetivos de aprendizaje:

- Usar la tabla de valor posicional para representar números hasta 20.
- Usar decenas y unidades para representar números hasta 20.

Vocabulario:

valor posicional
tabla de valor posicional
decena
unidades

PIENSA

Escribe cada número en la tabla de valor posicional.

0	Decenas	Unidades

15	Decenas	Unidades

1	Decenas	Unidades

5	Decenas	Unidades

Habla sobre tus respuestas con un compañero.

INTENTA

Agrupar 14  en grupos de 10.

¿Cuántos grupos formaste?

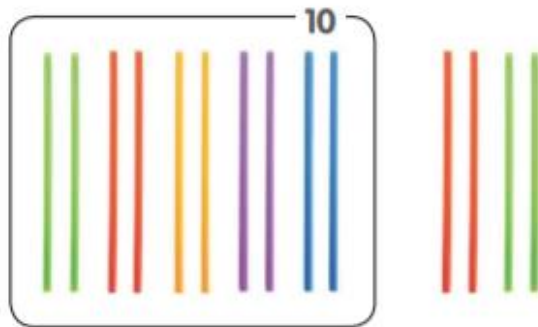
¿Cuántos  te sobran?

Luego, completa la oración: "14 es lo mismo que ____ decena y ____ unidades en la tabla de valor posicional".

APRENDE Usa el **valor posicional** para representar números hasta 20



Tengo un grupo de 10 y 4 sueltas.




Esta es una **tabla de valor posicional**.



Decenas	Unidades
1	4

14 = 1 decena y 4 unidades.



13 = 1 decena y 3 unidades.

Decenas	Unidades
1	3

¡Manos a la obra!

Usa el valor posicional para
representar números hasta 20


Toma menos de 20 círculos.

① Agrupa los  en decenas y unidades.

② **Hábito matemático** 7 **Dar sentido a la estructura**

Escribe el número representado.

Ejemplo:



15 = 1 decena y 5 unidades.

③ Repitan los pasos ① y ②.

___ = ___ decena y ___ unidades.

___ = ___ decena y ___ unidades.



___ = ___ decena y ___ unidades.

___ = ___ decena y ___ unidades.

___ = ___ decena y ___ unidades.

PRACTICA Usa el valor posicional para representar números hasta 20

Completa.

1  

16 = ____ decena y ____ unidades.

Decenas	Unidades

2 

15 = ____ decena y ____ unidades.

Decenas	Unidades

Encierra los  para representar 1 decena y 7 unidades.


3 

Encierra los  para representar 1 decena y 2 unidades.

4 

PRÁCTICA INDEPENDIENTE

Escribe los números que faltan.



16 = ____ decena y ____ unidades.

Decenas	Unidades

Une.



•

Decenas	Unidades
1	2



•

Decenas	Unidades
1	9



•

Decenas	Unidades
1	3

Escribe cada número que falta.

3 18 = ___ decena y ___ unidades.

4 ___ = 1 decena y 4 unidades.

Haz un (✓) si representan el mismo número.

Haz una (X) si no representan el mismo número.

5

Decena	Unidad
1	8



()

6

Decena	Unidad
1	5



()

7

Decena	Unidad
2	0



()

8

Decena	Unidad
1	7



()