



Guía complementaria 17  
Formas de restar hasta 20  
Trabajo en casa

**Queridos niños y niñas:**

¡Primero que todo, queremos felicitarlos porque sabemos que han trabajado muchos desde la casa!

Para seguir aprendiendo muchas cosas nuevas, les dejamos algunas actividades para que puedan ir ejercitando lo que vamos aprendiendo.

Con ayuda de algún adulto, lean la instrucción al menos dos veces. Si no comprendiste, pregunta. Luego trabaja de forma individual.

Sabemos todo lo que se han esforzado,


¡Ánimo y mucha suerte!

Tus Misses


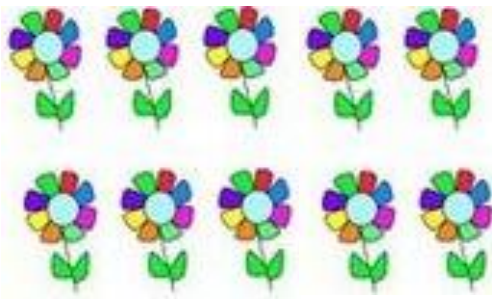


## Formas de restar hasta 20

 Resta contando hacia atrás desde el número mayor.

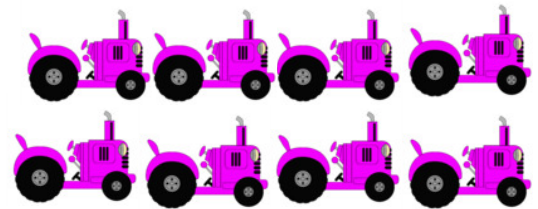

 Puedes dibujar flechas para poder ayudarte.

1.




$$16 - 4 = \underline{\quad}$$


2.



$$18 - 9 = \underline{\quad}$$



 Cuenta hacia atrás desde el número mayor.

 Une la resta con su resultado según corresponda.

$20 - 6$

10

$15 - 7$

12


$19 - 7$

14

$14 - 4$

8



 Observa la frase numérica y encierra si es **verdadera o falsa**.

 Recuerda sumar o restar según corresponda para responder.

1.

$$18 - 9 = 12 - 3$$

Verdadero / Falso

$18 - 9 = \underline{\quad}$

$12 - 3 = \underline{\quad}$

2.

$$19 - 3 = 11 + 3$$

Verdadero / Falso

$19 - 3 = \underline{\quad}$

$11 + 3 = \underline{\quad}$


3.

$$15 - 3 = 9 + 3$$

Verdadero / Falso

$15 - 3 = \underline{\quad}$

$9 + 3 = \underline{\quad}$

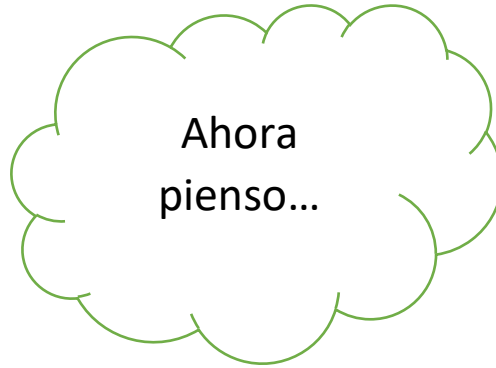
 Resuelve y completa.

$$14 - 2 = 9 + \underline{\quad}$$

$$16 + 2 = \underline{\quad} + \underline{\quad}$$

$$20 - 5 = 10 + \underline{\quad}$$

$$17 - 4 = 7 + \underline{\quad}$$



¿Para qué me sirve conocer las distintas estrategias para restar?




Ahora que ya viste la suma y la resta ¿Encuentras alguna relación entre ellas?
