



Guía complementaria 17
Formas de restar hasta 20
Trabajo en casa

Queridos niños y niñas:

¡Primero que todo, queremos felicitarlos porque sabemos que han trabajado muchos desde la casa!

Para seguir aprendiendo muchas cosas nuevas, les dejamos algunas actividades para que puedan ir ejercitando lo que vamos aprendiendo.

Con ayuda de algún adulto, lean la instrucción al menos dos veces. Si no comprendiste, pregunta. Luego trabaja de forma individual.

Sabemos todo lo que se han esforzado,

¡Ánimo y mucha suerte!

Tus Misses


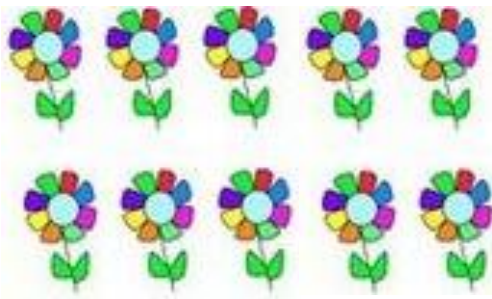


Formas de restar hasta 20

 Resta contando hacia atrás desde el número mayor.

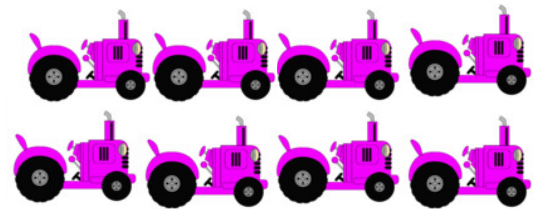

 Puedes dibujar flechas para poder ayudarte.

1.




$$16 - 4 = \underline{12}$$


2.

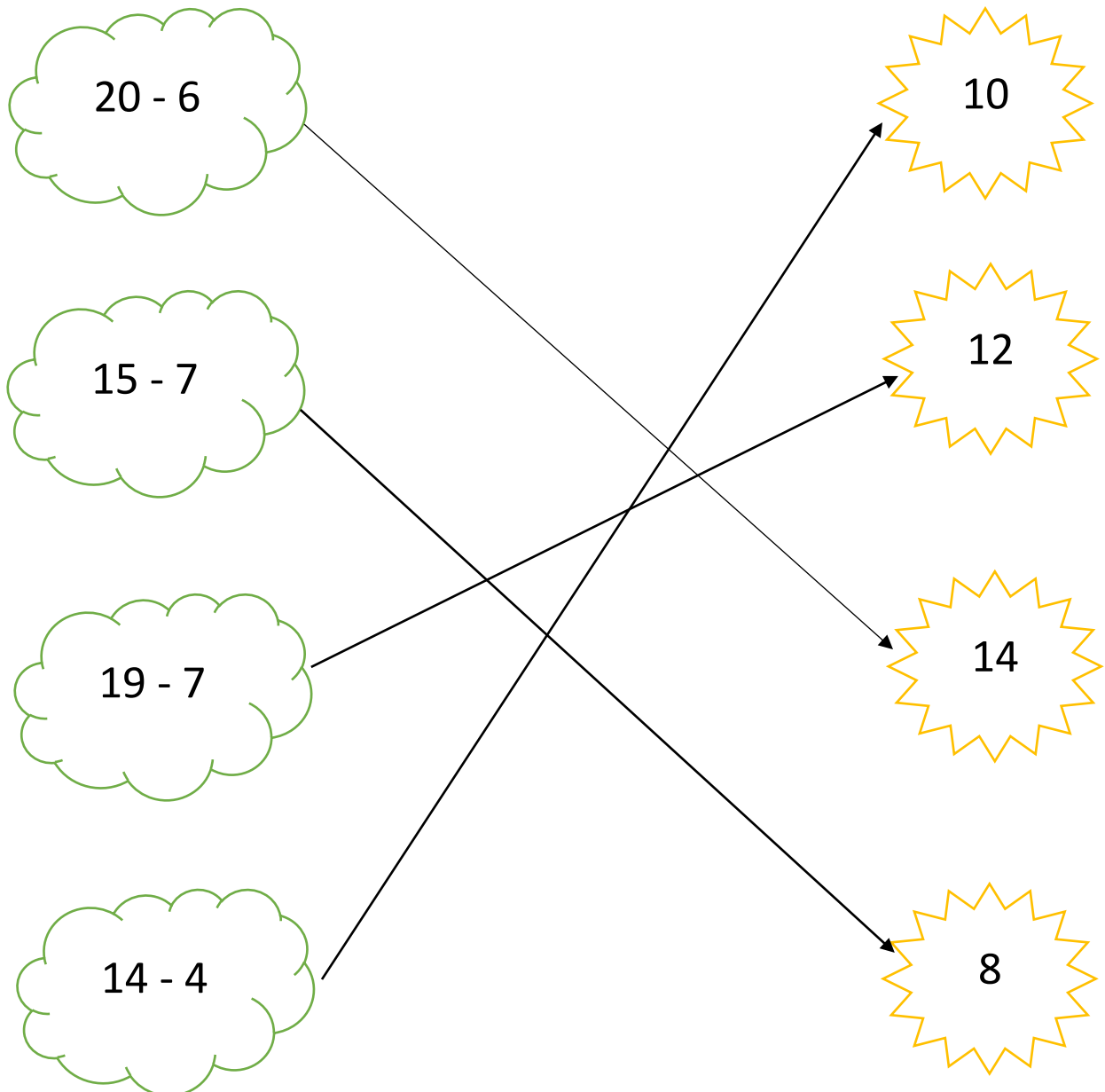


$$18 - 9 = \underline{9}$$



 Cuenta hacia atrás desde el número mayor.

 Une la resta con su resultado según corresponda.





Observa la frase numérica y encierra si es **verdadera o falsa**.

Recuerda sumar o restar según corresponda para responder.

1.

$$18 - 9 = 12 - 3$$

Verdadero / Falso

$$18 - 9 = \underline{9}$$

$$12 - 3 = \underline{9}$$

2.

$$19 - 3 = 11 + 3$$

Verdadero / Falso

$$19 - 3 = \underline{16}$$

$$11 + 3 = \underline{14}$$

3.

$$15 - 3 = 9 + 3$$

Verdadero / Falso

$$15 - 3 = \underline{12}$$

$$9 + 3 = \underline{12}$$

Resuelve y completa.

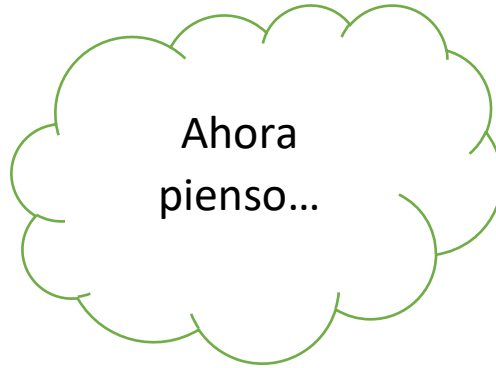
*Puede haber
distintas respuestas

$$14 - 2 = 9 + \underline{3}$$

$$16 + 2 = \underline{10} + \underline{6}$$

$$20 - 5 = 10 + \underline{5}$$

$$17 - 4 = 7 + \underline{6}$$



¿Para qué me sirve conocer las distintas estrategias para restar?

Me sirve ya que así tengo distintas herramientas y puedo elegir cual es la que se más hace más fácil o me acomoda para usar.



Ahora que ya viste la suma y la resta ¿Encuentras alguna relación entre ellas?

Se relacionan ya que son operaciones opuestas.