

RESUMAMOS



¿Ves algunas figuras a tu alrededor?
¿Cómo las distingues?

Figuras 2D

Identificar
figuras 2D



Clasificar
figuras 2D

Puedes hacer
dibujos usando
figuras 2D.



Hacer
dibujos

Hacer patrones
repetitivos

Según:
tamaño



forma



tamaño y color



Puedes clasificar las figuras 2D por:

- color
- tamaño
- forma
- número de lados y vértices

Las figuras pueden tener semejanzas y diferencias al mismo tiempo.



Estas figuras tienen igual color.

Estas figuras tienen diferente forma.



REVISA LO APRENDIDO

Cuenta cada tipo de figura.
Escribe el número en la tabla.

1



Figura	Número
Triángulo	4
Círculo	2
Rectángulo	3
Cuadrado	1

Traza cada figura.
Luego, escribe el número de lados y vértices.

2



$\frac{4}{4}$ lados
vértices

3



$\frac{0}{0}$ lados
vértices


Escribe **si** o **no**.

4

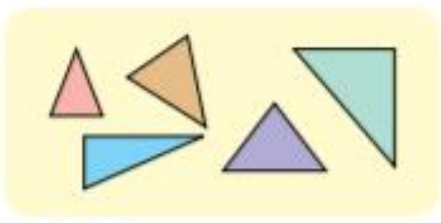
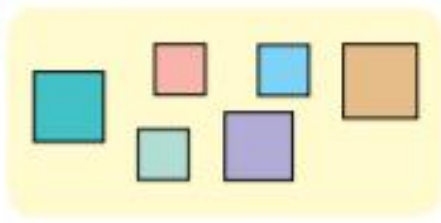
¿En qué se parecen las figuras?



Mismo número de lados	si
Mismo tamaño	no
Mismo color	no

¿Cómo están clasificadas estas figuras?
Pinta la  con la respuesta correcta.

5



por color

por tamaño

por el número de
lados y de vértices

6



por color

por tamaño

por forma

Nombra cada figura 3D.

7



esfera

8



cilindro

¿Cómo puedes mover la pirámide?

Encierra tu respuesta.

9



se apila

se desliza

rueda

Observa la imagen.

¿Qué figuras ves?

Encierra tu respuesta.

10

	Figuras 2D	Figuras 3D
	círculo	esfera
	triángulo	pirámide
	cuadrado	cilindro
	rectángulo	cono
		prisma rectangular

MIDE TU DESEMPEÑO

1 Pablo hace estas figuras en la arena.



a ¿En qué se parecen las figuras?

Las figuras se parecen en que tienen la misma cantidad de lados y de vértices, son triángulos.


b ¿En qué se diferencian las figuras?

Las figuras se diferencian por su tamaño.

2 Bárbara ve esta figura.




Ella dibuja el rectángulo que ve.



- a ¿Cuántos vértices tiene el rectángulo? 4
Enciérralos en azul.
- b ¿Cuántos lados tiene el rectángulo? 4
Traza cada lado en rojo.

3 En un parque hay bloques con diferentes formas. Observa el que vio José. Luego, responde.



- a ¿A qué figura se parece el bloque?
cubo
- b Esta figura, ¿se puede apilar, hacer rodar o deslizar? Pinta tu respuesta.

apilar	rodar	deslizar
--------	-------	----------